



## Taller ¿Sabes relacionar euros y números decimales?

NOMBRE: ..... FECHA: .....

### 1 Piensa en la moneda de 1 €.

- ¿Qué 10 monedas iguales suman 1 €? Dibuja y completa la frase.



Si dividimos 1 € en 10 partes iguales, cada parte son ..... CENT, es decir, 0,10 €.

- ¿Qué 100 monedas iguales suman 1 €? Completa.

Si dividimos 1 € en 100 partes iguales, cada parte es ..... CENT, es decir, ..... €.

### 2 ¿Con qué número decimal expresas el valor de estas monedas? Completa la tabla.

moneda	en céntimos	con números decimales
	2 CENT	0,02 €
	..... CENT	..... €
	..... CENT	..... €
	..... CENT	..... €


### 3 ¿Cuánto dinero hay en total?





Hay ..... € y ..... CENT.

- ¿Con qué número decimal expresarías esta cantidad? .....

4 ¿Cuánto dinero hay en cada hucha? Exprésalo con un número decimal.








5 Utiliza tus monedas y billetes para resolver las siguientes actividades.

- ¿Qué cantidad es mayor? Completa con el signo  $>$  o  $<$  según corresponda.



- ¿Cuál es el menor número de monedas y billetes que necesitas en cada caso? Dibuja.

5,03 €

12,78 €

4,67 €

- ¿Cómo has resuelto la actividad anterior? Explícalo.